

# 新北市立鶯歌工商 108 學年度第 2 學期期末考試題卷

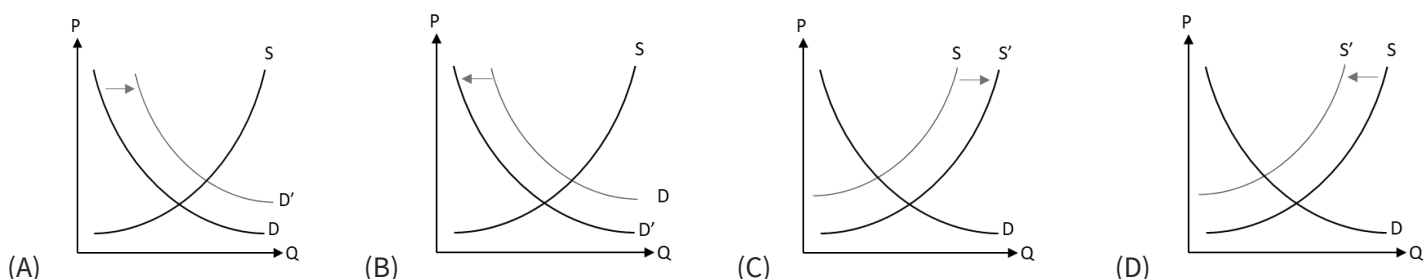
Yingge Vocational High School 2<sup>nd</sup> Semester, 108 Academic Year, Final Exam

考試科目 Subject	公民與社會		適用年級 Grade	資處科一年級、二年級 陶工科一年級、美工科二年級		命題教師 Exam Designer	周沅錡	
範圍 Target Lessons	全	班級 Class		姓名 Name		座號 No		

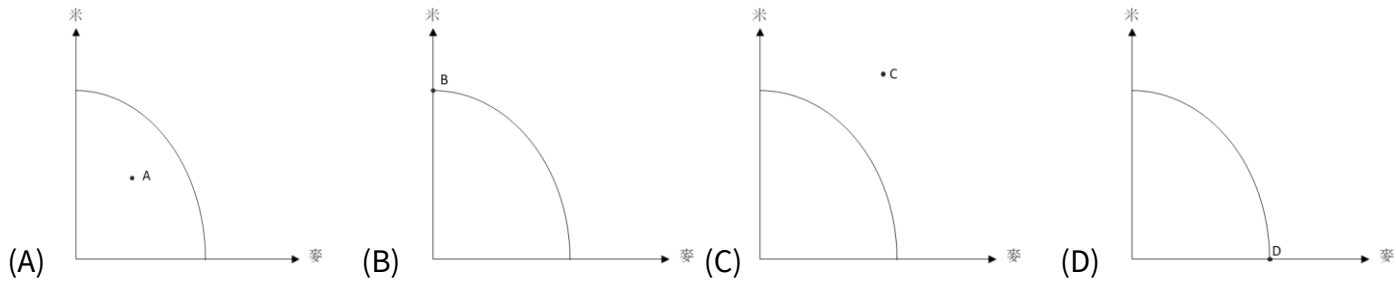
第一部分：選擇題 一、「單」選題。(2%/題，共 40%)

(意思是，請在您的答案卡上，每題只要畫上一個，一個，一個的選項作為答案就好)

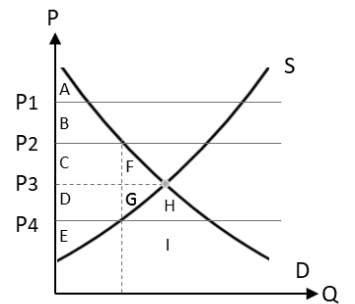
- 72.( ) 阿琇：我過了今年生日，現在是完全行為能力人。阿雅：明年生日才屬於少年事件處理法的「少年」。叡叡：去年生日開始，我就是限制責任能力人了。邦邦：我今天開始可以投公投了。請依現行臺灣法律的規定，將以上四人的年齡，依序由「大」排到「小」。
- (A)阿琇>阿雅>叡叡>邦邦 (B)邦邦>叡叡>阿雅>阿琇 (C)邦邦>阿琇>阿雅>叡叡 (D)阿琇>邦邦>叡叡>阿雅
- 73.( ) 2017 年時，大法官作成釋字 748 號，針對《民法》婚姻章中，未讓同性別二人，得以經營共同生活為目的，成立具親密性和排他性永久結合關係，並宣告違憲。另外在 2020 年，大法官也作成釋字 791 號，宣告刑法中的通姦罪違憲而除罪化。針對題目所敘述，下列何者「正確」？
- (A)大法官的職權高於總統，想做甚麼就可以做甚麼 (B)法律若有缺陷或是不完整，會受到非議和挑戰，進而修改  
(C)臺灣為三權分立，司法院的最高首長即為大法官 (D)通姦除罪化代表結婚也可以在外面找小三，而不會有任何法律責任
- 74.( ) 基本工資乃參照社會經濟等指標做調整。而近年來的月薪也從 2 萬 1,009 元調升至 2 萬 3,800 元。下列敘述何者「最能」夠說明基本工資調整所欲傳遞的意旨？
- (A)勞資雙方缺乏共識，由政府介入解決更為妥當 (B)民生消費不斷上漲，執政當局為求連任調漲工資  
(C)時薪調幅皆比月薪調幅多，顯示政府欲鼓勵民眾成為打工族 (D)參考物價指數等適當提升基本工資，乃保障個別勞工之權益
- 75.( ) 《專業之死》(The Death of Expertise)一書中提及，專家意見在現代是最弱勢的，手機世代人人自詡為議題專家，即使該領域專家解釋，仍可能被攻擊為特定利益護航，整個國家社會陷入互相指責、鬥爭的困境，無法綜觀全局去尋求全民福祉。這種現象與下列何者最不相關？
- (A)總白癡化 (B)依賴媒體，被動思考 (C)媒體近用權普及化 (D)訊息傳遞技術革新
- 76.( ) 假設只有甲、乙兩人及 X、Y 兩種產品，且甲、乙生產兩個產品的機會成本不一樣，則下列敘述何者「正確」？
- (A)若甲對 X 沒有絕對利益，則甲對 X 也沒有比較利益 (B)若乙對 Y 沒有比較利益，則乙對 Y 也沒有絕對利益  
(C)若甲對 X 沒有比較利益，則乙對 Y 也沒有比較利益 (D)若甲對 X 沒有絕對利益，則乙對 X 也沒有比較利益
- 77.( ) 冠瑋周末都會去打工，1 天上班 8 小時，時薪 140 元，餐廳也會免費提供 80 元的午餐給他。某天他注意到有一場周六的戶外研習，主題令他很感興趣。但車資需要 800 元，報名費為 2000 元，還需花 100 購買午餐餐盒；活動包含往返的時間在內，與他的打工時間完全重疊。若只考慮「打工」與「研習」，請問冠瑋選擇研習的機會成本為？
- (A)1,120 (B)2,900 (C)4,020 (D)4,100
- 78.( ) 若宜潔整天畫圖或寫作，則生產可能曲線上的生產組合如右表。請問下列何者「正確」？
- |       |   |   |   |   |   |
|-------|---|---|---|---|---|
| 圖畫(張) | 0 | 1 | 2 | 3 | 4 |
| 文章(篇) | 9 | 8 | 6 | 3 | 0 |
- (A)宜潔的生產可能曲線為一條斜率為正的直線 (B)宜潔畫 4 張圖但不寫作的生產組合沒有效率  
(C)全力寫作可寫 9 篇，因此在寫作上有絕對利益(D)從畫 2 張圖增為 4 張的機會成本是 6 篇文章
- 79.( ) 下列關於市場均衡的意義，何者「正確」？
- (A)不會有消費者買到太貴產品或買不起任何商品 (B)市場均衡價格下，供給量將等於需求量  
(C)即使供需改變，均衡價格及均衡數量也都不再變動 (D)生產者剩餘與消費者剩餘的差距達到最大
- 80.( ) 2020 年的農曆年前後，中國武漢傳出嚴重的肺炎疫情，而且快速的蔓延中國各個省分與世界各國，亞洲國家也紛紛傳出人傳人的疫情，而防疫用的口罩就成為民眾搶購的物資，賣場剛釋出就被搶購一空。若單從經濟學的理论判斷，請問下列敘述何者「正確」？
- (A)政府訂定價格上限，造成國內口罩需求減少 (B)政府訂定價格下限，造成國內口罩供給增加  
(C)政府訂定價格上限，造成國內口罩需求量減少 (D)政府訂定價格下限，造成國內口罩供給量增加
- 81.( ) 「全球電視龍頭三星對面板的採購量大增 23.7%，中國各彩色電視工廠的採購量也增加 20%以上，使得面板廠的需求量大於原均衡點，面板可望持續漲價，使廠商轉虧為盈。」若根據此新聞繪製面板市場，哪一個圖「最能」表示前述的供需變動情況？



- 82.( ) 美國、臺灣與日本都是 WTO 的成員，不丹和蘇丹則不是。假設五國都會買賣成衣，且美國對日本的成衣關稅從 20% 降為 15%，對蘇丹的成衣關稅從 30% 降到 10%。請問根據 WTO 的最惠國原則，下列何者「正確」？  
 (A) 日本對美國的成衣關稅須降為 15% (B) 美國對臺灣的成衣關稅須為 10%  
 (C) 美國對臺灣的成衣關稅須降為 15% (D) 美國對不丹的成衣關稅須降為 10%
- 83.( ) 假設鶯歌國在糧食作物上只生產「米」和「麥」兩種作物，請問「哪個組合」在生產可能曲線圖上生產最無效率？



- 84.( ) 請問下列與國際貿易相關的說明，何者「正確」？  
 (A) 對一國而言，進口花錢、出口賺錢，因此進口有害、出口有利  
 (B) 當一國的產品國內價格高於國際價格時，該國會出口產品獲利  
 (C) 國際分工貿易乃是根據比較利益，由機會成本較高者出口產品  
 (D) 參與國際貿易則有人獲利、有人受害，但整體經濟福祉會提高



圖(二)、臺灣租房供需圖

- 85.( ) 政府認為當前房價太高而實施價格上限，企圖減輕租屋者的負擔，實現居住正義。若從供需圖來看，此政策最可能使房租落在圖(二)哪個位置？  
 (A) P1 (B) P2 (C) P3 (D) P4。

日前，多名知名演員批評好萊塢男女演員同工不同酬是歧視的結果，奧斯卡影后娜塔莉波曼便曾抨擊「多數行業的女性報酬約是男性的 80%，但在好萊塢卻只有 30%。」網友 A 對此表示：「男演員爭取男性角色，女演員爭取女性角色，各自的市場情況不盡相同，這也可能造成片酬差異，無法直接論斷是性別歧視。」 網友 B 說：「若有片商因為歧視而開給女性偏低的報酬，自然有同業為了爭取女星合作來賺錢，願意出更高價，使得心存歧視的片商還是必須跟進，以免邀不到人。」 網友 C 表示：「可能也需要從社會脈絡來看，如果因為性別不平等讓片商、導演等多為男性，使劇本、電影也多以男性角色為主，那麼自由市場就容易造成片酬落差。」

- 86.( ) 下列何者最貼近網友 A 的看法？  
 (A) 演員市場有雙重標準，使男性演員有更多機會與更高片酬 (B) 男、女演員分屬不同市場，其片酬可能取決於各自市場的供需  
 (C) 男、女演員的片酬差異，應是市場機能沒有發揮所導致 (D) 男演員比起女演員更受到觀眾歡迎，片酬自然也會高於女演員。
- 87.( ) 網友 B 認為女星片酬「偏低」的問題最可能為何？  
 (A) 若女星片酬偏低，市場競爭將使其提高至均衡狀況 (B) 片商為了找女星合作賺錢不可能對女星心存歧視  
 (C) 市場機能對片酬的影響強過人們對性別平等的追求 (D) 片酬是片商與女性依據契約自由訂定，不可能偏低。
- 88.( ) 假設網友 C 的推論正確，則以何種做法拉進男女演員的片酬，比較不會犧牲經濟福祉？  
 (A) 政府針對女演員的片酬制定價格下限 (B) 政府規定女演員的片酬不得低於男演員  
 (C) 政府鼓勵業界產製女性角色為主的電影 (D) 政府鼓勵更多女性當演員，增加女星供給。

世界貿易組織(WTO)成立於 1995 年，用來取代《關稅暨貿易總協定》(GATT)，目的在於建立更為自由、公平、穩定的國際貿易體系，以帶動全球的經濟成長，使人們更有能力消除貧窮、提升生活水準。WTO 對於促進全球貿易貢獻良多，而近年 WTO 推動貿易自由化卻面臨阻礙、缺乏進展。臺灣在近幾年努力要參與各項國際組織，參與國際事務，希望藉此能讓國際看見臺灣的存在，並提升臺灣的地位，特別在 2020 年，全世界遭受 COVID-19(武漢肺炎)的影響下，更希望能加入世界衛生組織(WHO)，希望能獲得第一手的病情訊息，甚至是有機會能在大會上交流各國進行防疫的方法，以便未來遭遇到類似情況時，能夠更加有效率地來面對。

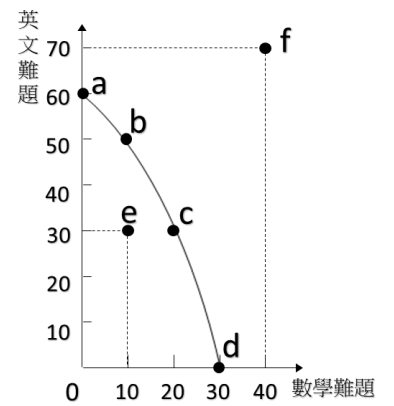
- 89.( ) 請問臺灣目前(西元 2020 年)以「正式會員」加入下列哪些國際組織 (甲)WHA (乙)WTO (丙)APEC (丁)ADB (戊)UN (己)ICAO？ (A) 甲乙丙 (B) 乙丙丁 (C) 甲丁戊 (D) 乙丙己
- 90.( ) 請問下列哪些是 WTO 近年面臨的問題？(甲)已開發國家與開發中國家對於貿易規則的修改未達共識 (乙)WTO 沒有對於貿易糾紛的裁決，缺乏約束效果，只有形式上管制 (丙)WTO 禁止自由貿易協定，但各國仍積極簽署 (丁)許多人認為 WTO 要為經濟全球化的負面影響負責。  
 (A) 甲乙 (B) 丙丁 (C) 甲丁 (D) 乙丙
- 91.( ) 下列何者敘述「正確」？  
 (A) GATT 涵蓋商品貿易、服務貿易與貿易相關的智慧財產權協定。  
 (B) WTO 和 GATT 都具有獨立法人人格，成員皆稱為會員國(members)  
 (C) GATT 是 WTO 的前身，同樣為了要推動貿易自由化而存在  
 (D) GATT 在爭端解決機制上較 WTO 更迅速，且具有法律上之約束力

## 二、「多選」選題 (就是不一定只有一個選項，好嗎)

(5%，共 40%，單題錯一個選項扣兩分，錯二個選項扣四分，錯三個選項以上該題不計分)

92.( ) 右圖是漫漫擁有 4 小時練習題目時間的生產可能曲線，根據圖形判斷，下列何者正確？

- (A) 小民增加練習數學題目的機會成本會遞增
- (B) 小民增加練習英文題目的機會成本不變
- (C) 圖中 a、b、c、d 四個點都是小民有效率的成果
- (D) 圖中 f 點代表小民並未充分利用時間讀書
- (E) 小民必須增加讀書時間才能達成圖中 e 點



圖(二)、阿咪的生產可能曲線

93.( ) 「都市繁忙的生活、較為疏離的人際互動，以及竊盜、詐騙等治安問題，讓不少人心生厭惡，因而嚮往純樸的鄉村生活。但事實上，都市讓形形色色的人齊聚一堂，透過相互分工、自然淘汰，讓經濟得以蓬勃發展。」

依據前述，從經濟學的角度來看，都市有助於下列哪些概念的發揮，因而能促進經濟發展？

- (A) 價格上限 (B) 價格下限 (C) 自由競爭 (D) 比較利益 (E) 絕對利益

94.( ) 伊朗與美、英、德、法、中、俄在奧地利 維也納達成核子協議，承諾永不發展核武，而國際社會對於伊朗的經貿制裁可望陸續解除。伊朗對此表示，未來除了從國外進口商品與機械之外，也將致力於石油、天然氣、金屬和汽車產業的出口。請問伊朗加入國際貿易，可能造成何種影響？

- (A) 國際石油價格出現上漲壓力 (B) 伊朗境內所有廠商獲利增加 (C) 全球環境破壞規模擴大
- (D) 全球的產出水準提高 (E) 伊朗國內石油、天然氣、金屬和汽車產業的消費者剩餘可能提高

95.( ) 在某婚友社中，生理男性與生理女性的比例是 10:2。假設現在進行某個遊戲，要使男女性配對成一組才能晉級，女生被視為稀有品，而在此遊戲市場中，將會出現哪些狀況？

- (A) 女性在這市場中存在稀有，又被稱為是季芬財，價錢越高越多人想購買
- (B) 男性在這市場中存在劣勢，可能會不斷削減自己的最大獲益來競爭
- (C) 理性的女生可藉由男生間的競爭而獲取較多的生產者剩餘
- (D) 男生出現超額供給，有意與女性結伴的人，必須證明自己是最好的選擇
- (E) 女生出現超額需求，有意接受追求者，只需做出效用最大的選擇即可

96.( ) 下列哪些規定「不適宜」以公投決定之？

- (A) 警察抓到重罪通緝或現行犯，可立即處死 (B) 所有的網路都應先經過國家機關審查
- (C) 國家應逐年降低火力發電量以防空氣汙染 (D) 推行在地母語，讓學童可以選修原住民語
- (E) 收入一定金額以下之人限制居住特定區域

97.( ) 生活中有各種現象，都有可能造成消費者及供給者的行為產生變化，請問下列現象中，哪些是造成「需求」的變動？

- (A) 澳洲森林大火造成自然生態嚴重損害，旅客減少前往，導致旅遊業景氣低迷
- (B) 新市長上任帶動店家入駐週邊商圈，引進大量人潮消費
- (C) 傳染病期間，政府管制口罩販賣，並以定量定價銷售，消費者皆付相等金額的費用購買口罩
- (D) 知名藝人因網路迷因 meme (通常指諷諧、諷刺、大量模仿的訊息)，使得唱片銷售量大增，重回 KTV 熱門排行榜
- (E) 高鐵祭出促銷活動：「大學生快閃雙周」，大學生可以原票價五折價格買回，使得大量學生連夜搶票

98.( ) 下列對目前的社會福利制度，下列哪些可能有誤？

- (A) 外籍移工在臺灣工作也須投保勞工保險及全民健康保險，並享有其福利
- (B) 任何人只要需要，皆可以申請社會救助的相關措施，不需任何審查標準。
- (C) 社會保險針對所有人民所設的制度，因為尊重人民的財產自主權，不強制人民參加社會保險(如：勞工保險、全民健康保險等)
- (D) 政府針對人民提供不同種類的居住安全，包含青年住宅、社會住宅，但通常只租不售
- (E) 高中職學生，因未滿 20 歲，因此打工不需要投保勞保及健保，出事也不會有賠償，所以自己要小心。

99.( ) 依臺灣目前的選罷制度而言，請選出下列「正確」的選項？

- (A) 縣市首長的罷免門檻為「有效同意票數多於不同意票數」且「同意票數達原選舉區選舉人總數 1/4 人以上」即為通過。
- (B) 總統、副總統之罷免案也可以透過人民提案連署通過，最低只需要 75 人連署即可成立
- (C) 縣市議員與立法委員的選舉制度完全相同，皆為同一政黨可提出多人參選
- (D) 目前定居臺灣的非本國籍外國人不可以參與臺灣的投票
- (E) 區域立委有 1/2 的女性保障名額，因此有時候可能出現遞補當選的情況。

## 第二部分：簡答題(20%) (麻煩您寫在這張紙上，簡單作答，並以繁體字書寫。)

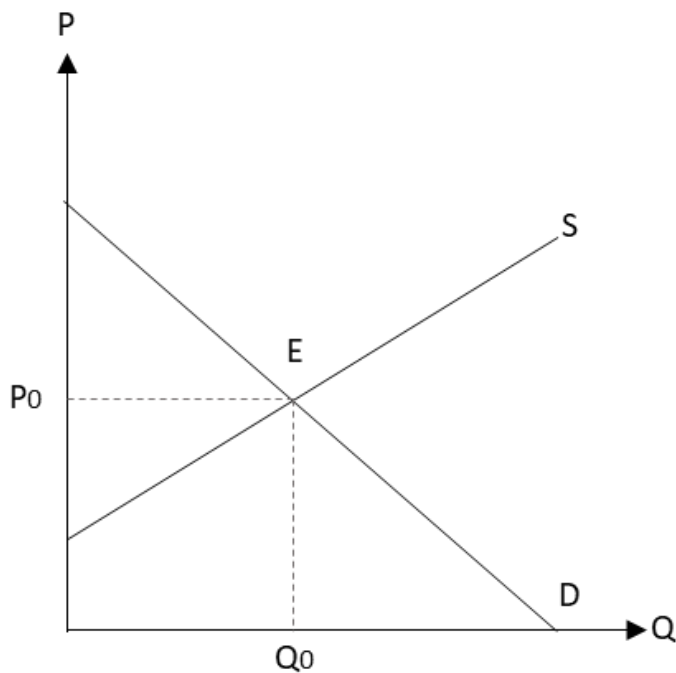
### 一、請閱讀後作圖並回答問題

2020 年至今，世界各地籠罩在新型冠狀肺炎的陰影底下，許多人因為資訊的不對等、資源的匱乏，甚至是因為對於衛生保健的知識缺乏，導致其生命受到巨大威脅，國際上對於傳染病的防治也都並未預先防患於未然，正當世界各國都將希望寄託在世界衛生組織(WHO)身上時，卻無法得到相對應的協助與幫忙，使得疫情一發不可收拾。

請問，當疫情升溫的同時，對應的防疫商品(如：酒精、口罩、洗手乳等)在市場上可能會何種情形，是市場的需求減少呢？還是市場的供給量增加呢？均衡價格及數量可能發生甚麼改變？

請 (1)作圖表示 (2)說明哪些數值發生改變，並提供解決方法。(圖 4% 說明 6%)

(E 為原市場均衡點， $P_0$  為市場均衡價格  $Q_0$  為市場均衡數量，請用黑色以外的顏色的筆在圖上畫出變化)



### 二、請閱讀下列文章後作答

公視自製戲劇《我們與惡的距離》，劇中提到，各種患有思覺失調症的患者犯案，導致社會上各種恐慌，進而開啟的一系列的追查和報導，劇中同時間以被害者、加害者及媒體三方的角度進行闡述。而本劇也在臺灣掀起一波熱潮，讓大家回憶起當年的鄭捷案和小燈炮案。

而近幾年在臺灣也很努力的推動「修復式正義」的概念和方法，希望能讓被害者及加害者都能盡早返回社會生活，但隨著思覺失調症患者不斷被冠上殺人犯的同義詞，人們認為他們都是屬於社會上的潛在危險因子，而臺灣現行的《刑法》和《刑事訴訟法》也保障「行為時因精神障礙或其他心智缺陷，致不能辨識其行為違法或欠缺依其便是而行為之能力者，不罰。」的狀況，更被稱為是精神病患庇護法，只要騙過鑑定醫師，就可以無罪，讓法律好像為罪犯開了一條通往自由的康莊大道。在近期更做出對於在 2019 年時，一名思覺失調症患者在火車上刺傷員警導致死亡，而今年法官宣判無罪，後有立委更公開表示：「大家應該都去嘉義犯案，反正法院會判你無罪」等言論，此後，其員警之父也因心力交瘁，相繼去世，本案還在持續爭訴中。

請問，法律為什麼要保障「精神耗弱」或「精神障礙」的犯罪者無罪呢？

請選用刑法的以下任一觀點(應報理論/一般預防理論/特別預防理論)舉例，並簡單地闡述您的想法(10%)

(請至少書寫 30 字哦！)